





Prénom : _____

Ma crème glacée préférée

Question du sondage : Quelle est ta saveur de crème glacée préférée?

10				
9				
8				
7				
6				
5				
4				
3				
2				
1				
	 vanille	 chocolat	 gomme baloune	 pâte à biscuit

a) Quelle est la saveur la plus populaire? _____




b) Quelle est la saveur la moins appréciée?

c) Combien d'élèves préfèrent le chocolat? _____

Prénom : _____

Bonds glacés

Compte par bonds de 2, 5 et 10 et écris les nombres manquants.



Prénom : _____

Nombres glacés

Écris le bon signe $<$, $>$ ou $=$ dans les boules de crème glacée.

a) 51  74

h) 81  81

b) 83  62

i) 47  52

c) 99  98

j) 90  100

d) 45  54

k) 76  86

e) 36  36

l) 66  66

f) 75  63

m) 29  38

g) 69  70

n) 72  97